

ข้อสอบพัฒนาทักษะการคิดวิเคราะห์

กลุ่มสาระการเรียนรู้คณิตศาสตร์ ชั้นประถมศึกษาปีที่ 3

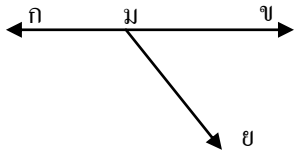
หน่วยที่ 10 รูปเรขาคณิต จำนวน 10 ข้อ

จงกา X ทับตัวอักษรตรงกับตัวเลือกที่ต้องการลงในกระดาษคำตอบ



สัญลักษณ์แทนรูปข้างบนคือข้อใด

- ก. จฉ                      ข.  $\overline{จฉ}$   
ค.  $\overrightarrow{จฉ}$                   ง.  $\overleftarrow{จฉ}$



2. จากรูปจุดตัดคือข้อใด

- ก. จุด ข                      ข. จุด ก  
ค. จุด ม                      ง. จุด ย

3. ข้อใดคือส่วนของเส้นตรงและรังสี

- ก.                  ข.   
ค.                  ง.



มุม สนย เกิดจากรังสีคู่ใด

- ก.  $\overrightarrow{นส}$   $\overrightarrow{นย}$                   ข.  $\overrightarrow{สน}$   $\overrightarrow{นย}$   
ค.  $\overrightarrow{นส}$   $\overrightarrow{นย}$                   ง.  $\overrightarrow{สน}$   $\overrightarrow{นย}$

5. สิ่งของในข้อใดมีลักษณะเป็นทรงกลม

- ก. กลองกระดาษ  
ข. ลูกบอล  
ค. กระป๋องนม  
ง. ไม้ใส่เสื้อผ้า

6. ข้อใดเป็นรูปสี่เหลี่ยมทุกรูป

- ก.                  ข.   
ค.                  ง.

7. สิ่งของในข้อใดมีลักษณะเป็น

ทรงสี่เหลี่ยมมุมฉาก


- ก. ขวด                      ข. แก้ว  
ค. หนังสือ                  ง. ลูกโลกจำลอง

8. ข้อใดใช้เป็นแบบรูปวงกลมไม่ได้

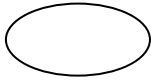
- ก. แก้ว                      ข. เหยือก  
ค. ขวด                      ง. ลูกบอล

9. ข้อใดมีแกนสมมาตรมากที่สุด

ก.



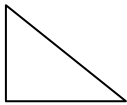
ข.



ค.

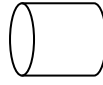


ง.




10. ข้อใดเป็นรูปเรขาคณิตสามมิติทั้งหมด

ก.



ข.



ค.



ง.

