

หน่วยที่ 14 การอ่านแผนภูมิและกราฟเส้น

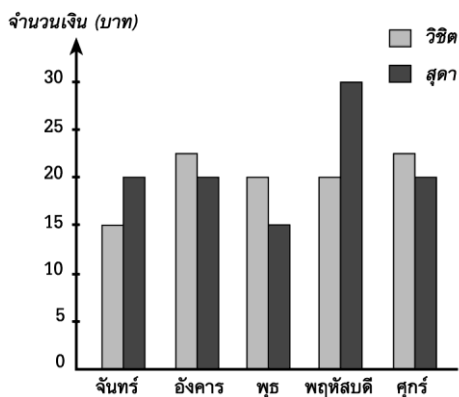
จำนวน 15 ข้อ

จงกา × ทับตัวอักษร ตรงกับตัวเลือกที่ต้องการลงในกระดาษคำตอบ

จากแผนภูมิแท่งเปรียบเทียบ ตอบคำถาม

ข้อ 1 – 5

รายจ่ายค่าอาหารของวิจิตและสุดาภายใน 1 สัปดาห์



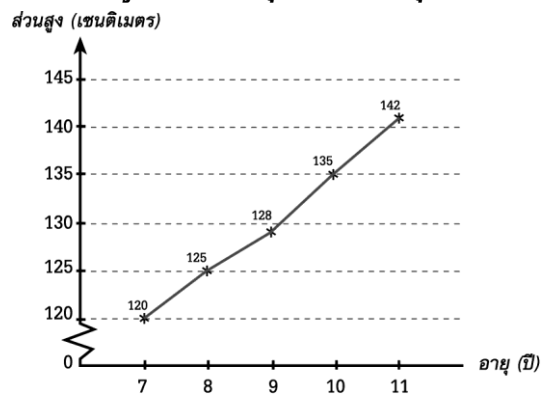
- ภายใน 1 สัปดาห์ วิจิตกับสุดา จ่ายค่าอาหารรวมทั้งหมดกี่บาท
 ก. 205 บาท ข. 200 บาท
 ค. 195 บาท ง. 190 บาท
- วันที่สุดาจ่ายเงินค่าอาหารมากที่สุด
 ก. วันจันทร์ ข. วันอังคาร
 ค. วันพุธ ง. วันพฤหัสบดี
- วันใดบ้างที่วิจิตจ่ายค่าอาหารมากกว่าสุดา
 ก. วันจันทร์ วันอังคาร วันพุธ
 ข. วันอังคาร วันพุธ วันศุกร์
 ค. วันพุธ วันพฤหัสบดี วันศุกร์
 ง. วันจันทร์ วันพฤหัสบดี วันศุกร์

- หากวันอังคารวิจิตจ่ายค่าอาหารเพิ่มอีก 5 บาท วิจิตจะจ่ายค่าอาหารมากกว่าสุดา กี่บาท
 ก. 5 บาท ข. 7.50 บาท
 ค. 15 บาท ง. 20 บาท

- วันที่สุดาจ่ายค่าอาหารมากที่สุดมากกว่าวิจิต กี่บาท
 ก. 10 บาท ข. 15 บาท
 ค. 20 บาท ง. 25 บาท

จากกราฟเส้น ตอบคำถามข้อ 6 – 7

ส่วนสูงของ ด.ช. ศุภกร ช่วงอายุ 7 – 11 ปี



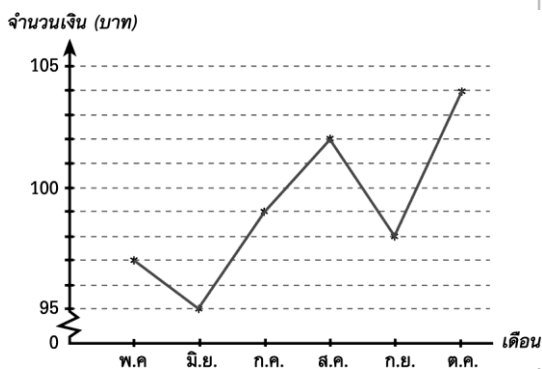
- ในช่วงอายุใดที่ ด.ช. ศุภกร มีส่วนสูงเพิ่มขึ้นน้อยที่สุด
 ก. 7 – 8 ปี ข. 8 – 9 ปี
 ค. 9 – 10 ปี ง. 10 – 11 ปี

7. ในช่วงอายุ 11 ปี ค.ช. สุกกร สูงกว่าในช่วงอายุ 9 ปี กี่เซนติเมตร

- ก. 10 เซนติเมตร ข. 12 เซนติเมตร
ค. 14 เซนติเมตร ง. 16 เซนติเมตร

จากกราฟเส้น ตอบคำถามข้อ 8 – 10

เงินเก็บของสุกกรที่ระหว่างเดือนพฤษภาคมถึงเดือนตุลาคม



8. ตั้งแต่เดือนพฤษภาคมถึงเดือนตุลาคม สุกกรที่เก็บออมเงินได้ทั้งหมดกี่บาท

- ก. 580 บาท ข. 585 บาท
ค. 590 บาท ง. 595 บาท

9. เดือนที่สุกกรที่เก็บออมเงินได้มากที่สุดมากกว่าเดือนที่เก็บออมเงินได้น้อยที่สุดกี่บาท

- ก. 9 บาท ข. 8 บาท
ค. 7 บาท ง. 6 บาท

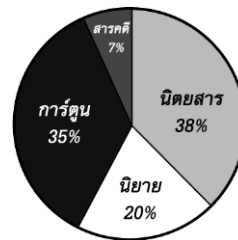
10. เดือนพฤษภาคมถึงเดือนสิงหาคมสุกกรที่เก็บออมเงินได้มากกว่าเดือนกันยายนถึงเดือนตุลาคมกี่บาท

- ก. 190 บาท
ข. 191 บาท
ค. 192 บาท
ง. 193 บาท

จากแผนภูมิรูปวงกลม ตอบคำถาม

ข้อ 11 -15

ปริมาณการขายหนังสือประเภทต่างๆ 2,500 เล่ม ของร้านค้าแห่งหนึ่ง



11. ร้านค้าขายหนังสือการ์ตูนได้มากกว่าหนังสือนิยายกี่เล่ม

- ก. 875 เล่ม ข. 500 เล่ม
ค. 415 เล่ม ง. 375 เล่ม

12. ร้านค้าขายหนังสือนิตยสารได้กี่เล่ม

- ก. 780 เล่ม ข. 830 เล่ม
ค. 950 เล่ม ง. 980 เล่ม

13. ร้านค้าขายหนังสือสารคดีและหนังสือนิตยสารรวมกันได้ทั้งหมดกี่เล่ม

- ก. 1,125 เล่ม ข. 1,112 เล่ม
ค. 950 เล่ม ง. 875 เล่ม

14. ร้านค้าขายหนังสือนิยายได้น้อยกว่าหนังสือนิตยสารกี่เล่ม

- ก. 425 เล่ม ข. 450 เล่ม
ค. 475 เล่ม ง. 525 เล่ม

15. ร้านค้าขายหนังสืออะไรได้มากที่สุดจำนวนกี่เล่ม

- ก. นิตยสาร 950 เล่ม
ข. นิยาย 300 เล่ม
ค. การ์ตูน 875 เล่ม
ง. สารคดี 980 เล่ม