


แบบทดสอบ

วิทยาศาสตร์ ป.1

ภาคต้น ชุดที่ 1

.....


ตอนที่ 1 จงนำหมายเลขจากรูปภาพที่ตรงกับข้อความข้างล่างมาเติมลงใน หน้า
ข้อความนั้นๆ



- 1. ตา
- 3. จมูก
- 5. ผม
- 6. มือ
- 9. เท้า

- 2. หู
- 3. ปาก
- 4. คิ้ว
- 7. แขน
- 10. ขา

ตอนที่ 2 จงจำแนกลักษณะต่างๆของสัตว์ที่กำหนดให้ตามหัวข้อต่อไปนี้



- 1. สัตว์ชนิดใดที่มี 2 ขา
- 2. สัตว์ชนิดใดที่มี 4 ขา
- 3. สัตว์ชนิดใดไม่มีขา
- 4. สัตว์ชนิดใดบินได้
- 5. สัตว์ชนิดใดอาศัยอยู่ในน้ำ
- 6. สัตว์ชนิดใดอาศัยอยู่ในดิน
- 7. สัตว์ชนิดใดหายใจด้วยเหงือก
- 8. สัตว์ชนิดใดอาศัยอยู่ได้ทั้งบนบกและในน้ำ
- 9. สัตว์ชนิดใดมีกระดูกสันหลัง
- 10. สัตว์ชนิดใดไม่มีกระดูกสันหลัง

ตอนที่ 3 จงเลือกคำตอบที่ถูกต้องที่สุดเพียงคำตอบเดียว

1. พืชชนิดใดต่อไปนี้ไม่มีผล

- | | |
|------------|--------------|
| 1. ทุเรียน | 2. ผักกาดขาว |
| 3. มะม่วง | 4. มันฝรั่ง |

2. ผลไม้ต่อไปนี้ชนิดใดมีเมล็ดมากที่สุด

- | | |
|-----------|----------|
| 1. ชมพู | 2. แตงโม |
| 3. มะม่วง | 4. ส้ม |

3. พืชชนิดใดนิยมนำไปมารับประทาน

- | | |
|-----------|----------|
| 1. แครอท | 2. ตำลึง |
| 3. มันเทศ | 4. ขนุน |

4. ส่วนใดของพืชทำหน้าที่สร้างเมล็ด

- | | |
|--------|----------|
| 1. ราก | 2. ดอก |
| 3. ใบ | 4. ลำต้น |

5. ดอกไม้ชนิดใดมีดอกช่อ

- | | |
|-----------------|----------------|
| 1. กุหลาบ | 2. ดอกชบา |
| 3. ดอกเฟื่องฟ้า | 4. ดอกทานตะวัน |

6. พืชในข้อใดมีลำต้นอยู่ใต้ดิน

- | | |
|------------|-------------|
| 1. ผักบุ้ง | 2. ผักกาด |
| 3. แห้ว | 4. กระเทียม |

7. พืชในข้อใดต่อไปนี้มีเฉพาะดอกตัวเมีย

- | | |
|--------------|--------------|
| 1. ดอกมะลิ | 2. ดอกบัว |
| 3. ดอกผักทอง | 4. ดอกกุหลาบ |

8. รากในข้อใดที่รับประทานได้

- | | |
|------------|-----------|
| 1. มันแกว | 2. มะม่วง |
| 3. กัลฉ่าย | 4. ข่า |

9. เมล็ดอยู่ในส่วนใดของพืช

- | | |
|-------|----------|
| 1. ใบ | 2. ลำต้น |
| 3. ผล | 4. ราก |

10. เนื้อผลไม้ เจริญมาจากส่วนใด

- | | |
|--------------|---------------|
| 1. ผนังลำต้น | 2. ผนังรังไข่ |
| 3. ราก | 4. ใบ |

เฉลย

แบบทดสอบวิทยาศาสตร์ ป.1 ภาคต้น ชุดที่ 1

ตอนที่ 1

- | | | | | |
|------|------|------|------|--------|
| 1. 8 | 2. 2 | 3. 5 | 4. 6 | 5. 1 |
| 6. 7 | 7. 9 | 8. 3 | 9. 4 | 10. 10 |

ตอนที่ 2

1. นก
2. ช้าง แมว สุนัข เสือ กบ
3. งู ปลา แมงกะพรุน
4. นก ผีเสื้อ แมลงปอ
5. กุ้ง ปลา แมงกะพรุน
6. ตะขาบ
7. ปลา
8. กบ
9. ช้าง แมว สุนัข นก เสือ กบ งู ปลา
10. ผีเสื้อ แมลงปอ กุ้ง แมงกะพรุน ตะขาบ แมงมุม

ตอนที่ 3

- | | | | | |
|------|------|------|------|-------|
| 1. 2 | 2. 2 | 3. 2 | 4. 2 | 5. 3 |
| 6. 3 | 7. 3 | 8. 1 | 9. 3 | 10. 2 |

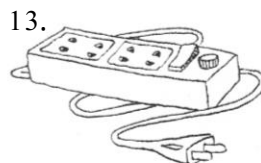
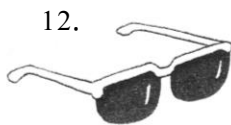
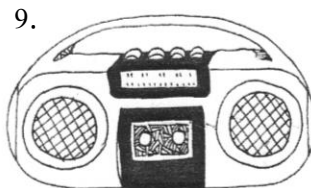
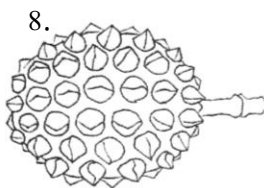



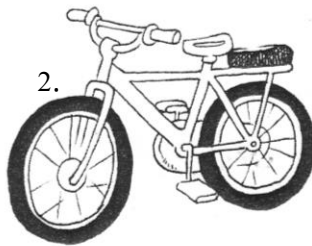
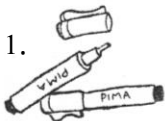
แบบทดสอบ

วิทยาศาสตร์ ป.1

ภาคปลาย ชุดที่ 1

.....

ตอนที่ 1

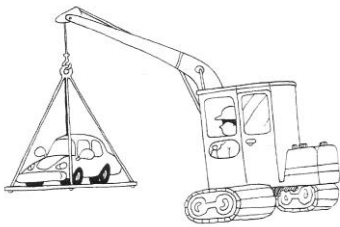


จากรูปภาพที่กำหนดให้จงตอบคำถามต่อไปนี้

1. รูปไต่บั้งเป็นของใช้
2. รูปไต่บั้งเป็นของกิน
3. รูปไต่บั้งเป็นของเล่น
4. รูปไต่ที่มีความยืดหยุ่น
5. ของใช้ชนิดไต่บั้งทำให้เกิดเสียง

ตอนที่ 2 จงเติมคำลงในช่องว่างต่อไปนี้ให้ถูกต้อง

1.



ออกแรง.....รถ

2.




ออกแรง.....รถเข็นให้เคลื่อนที่

3.




ออกแรง.....ถังน้ำ

4.




ออกแรง.....ท่อนไม้

5.



ออกแรง.....รถยนต์

6.



ออกแรง.....ลูกโป่ง

เมื่อเลิกออกแรงกระทำมีลักษณะ.....

7.



ออกแรง.....ฟองน้ำ

เมื่อเลิกออกแรงกระทำมีลักษณะ.....

8.

ออกแรง.....ยางวงรัดของ

เมื่อเลิกออกแรงกระทำมีลักษณะ.....



9.



ออกแรง.....ก้อนดินน้ำมัน
เมื่อเด็กออกแรงกระทำมีลักษณะ.....

10.



ออกแรง.....ดินเพื่อปลูกต้นไม้

ตอนที่ 3 จงเลือกคำตอบที่ถูกต้องที่สุดเพียงคำตอบเดียว

1. ในเวลากลางวันเรารู้สึกร้อน เพราะดาวดวงใด
 1. โลก
 2. ดวงจันทร์
 3. ดวงอาทิตย์
 4. ดาวเคราะห์
2. ข้อใดต่อไปนี้เป็นไม่เห็นในเวลากลางคืน
 1. ดวงจันทร์
 2. ดวงดาว
 3. เมฆ
 4. ดวงอาทิตย์
3. ข้อใดไม่ใช่คุณลักษณะของโลก
 1. มีแสงในตัวเอง
 2. ต้องอาศัยแสงสว่างจากดวงอาทิตย์
 3. ประกอบด้วย ดินและน้ำ
 4. มีอากาศห่อหุ้ม
4. เราสามารถมองเห็นดวงจันทร์เต็มดวงในวันใด
 1. วันขึ้น 5 ค่ำ
 2. วันขึ้น 15 ค่ำ
 3. วันแรม 5 ค่ำ
 4. วันแรม 15 ค่ำ
5. ดาวดวงใดมีแสงระยิบระยับในเวลากลางคืน
 1. ดาวเหนือ
 2. ดาวเสาร์
 3. ดาวพฤหัสบดี
 4. ดาวอังคาร
6. ดวงอาทิตย์ขึ้นและตกทางทิศใด
 1. ทิศเหนือ-ทิศใต้
 2. ทิศเหนือ-ทิศตะวันตก
 3. ทิศตะวันออก-ทิศตะวันตก
 4. ทิศตะวันออก-ทิศใต้
7. ในเวลากลางคืนเมื่อไม่มีแสงจากดวงอาทิตย์ เราต้องอาศัยแสงสว่างจากสิ่งใด
 1. เทียนไข
 2. หลอดไฟ
 3. กองไฟ
 4. ถูกต้องทุกข้อ
8. ข้อใดไม่ใช่ความสำคัญของดวงอาทิตย์
 1. ความสว่าง
 2. ความร้อน
 3. ความอบอุ่น
 4. ความหนาวเย็น

9. ข้อใดต่อไปนี้เป็นไม่ใช่ดาวเคราะห์

1. ดาวพฤหัสบดี

2. ดาวเสาร์

3. โลก

4. ดวงอาทิตย์

10. ดาวดวงใดเป็นบริวารของโลก

1. ดวงจันทร์

2. ดวงอาทิตย์

3. ดวงดาว

4. ดาวเสาร์

เฉลย

แบบทดสอบวิทยาศาสตร์ ป.2

ภาคปลาย ชุดที่ 1

ตอนที่ 1

1. ปลั๊กไฟ แวนตา วิทย์ ไม้เทนนิส ปากกา นาฬิกาปลุก จักรยาน
2. น้ำมันพืช ทุเรียน ผักกระหล่ำปลี ปลา
3. หุ่นยนต์ ลูกฟุตบอล
4. ลูกฟุตบอล ไม้เทนนิส ล้อรถจักรยาน
5. วิทย์ นาฬิกาปลุก

ตอนที่ 2

- | | |
|-----------------|---|
| 1. ยก | 6. เป่า / กลมจากลมที่เป่าเข้าไป |
| 2. เข็น (ดัน) | 7. บิด,บีบ / เหมือนเดิมก่อนถูกแรงกระทำ |
| 3. ดึง | 8. ดึง / เหมือนเดิมก่อนถูกแรงกระทำ |
| 4. ลาก | 9. กด / มีรูปร่างไม่เหมือนเดิม บุป มีรอยบวม |
| 5. ผลัก (ดัน) | 10. ชูด |

ตอนที่ 3

- | | | | | |
|------|------|------|------|-------|
| 1. 3 | 2. 4 | 3. 1 | 4. 2 | 5. 1 |
| 6. 3 | 7. 4 | 8. 4 | 9. 4 | 10. 1 |

แบบทดสอบ

วิทยาศาสตร์ ป.1

ภาคต้น ชุดที่ 2

.....

ตอนที่ 1 จงเลือกคำตอบที่ถูกต้องที่สุดเพียงคำตอบเดียว

1. ข้อใดไม่ใช่อวัยวะของคน
 1. ตา
 2. ขา
 3. แขน
 4. เขา
2. ข้อใดเป็นอวัยวะที่อยู่บนใบหน้าทั้งหมด
 1. ตา หู แขน
 2. คิ้ว ตา ปาก
 3. ตา จมูก เขา
 4. ปาก จมูก ข้อศอก
3. คิ้ว มีหน้าที่อย่างไรสำคัญที่สุด
 1. ป้องกันเหงื่อเข้าตา
 2. เพื่อความสวยงาม
 3. เพื่อแสดงอารมณ์
 4. ขำระล้างตาให้สะอาด
4. อวัยวะใดใช้ฟังเสียง
 1. ตา
 2. หู
 3. จมูก
 4. ปาก
5. คนมีฟัน 2 ชุด คือข้อใด
 1. ฟันแท้ ฟันปลอม
 2. ฟันน้ำนม ฟันปลอม
 3. ฟันน้ำนม ฟันแท้
 4. ฟันปลอม ฟันเทียม

6. คนที่ฟังเสียงไม่ค่อยได้ยิน เรียกว่าอะไร
 1. หูหนวก
 2. หูน้ำหนวก
 3. หูตึง
 4. หูเสีย
7. ข้อใดไม่ควรปฏิบัติ เมื่อมีแมลงหรือผงเข้าตา
 1. ขยี้ตาทันที
 2. ลืมตาในน้ำสะอาด
 3. ไปพบแพทย์
 4. ถูคิ้วทุกข้อ
8. ข้อใดเป็นการดูแลรักษาหูที่ถูกต้อง
 1. ไม้ใช้ของแข็งแคะหู
 2. ไม้อยู่ในที่ที่มีเสียงดังเกินไป
 3. ใช้น้ำมันมะกอกหยอดหูเมื่อมีแมลงเข้าหู
 4. ถูคิ้วทุกข้อ
9. ในคนที่เป็นเหมาหลายๆ จะมีอาการใดตามมาได้
 1. เป็นโรคโลหิตจาง
 2. หนังศีรษะลอก
 3. ผมร่วง
 4. ถูคิ้วทุกข้อ
10. ข้อใดบอกความสัมพันธ์ของอวัยวะไม่ถูกต้อง
 1. ตามีไว้ดู
 2. หูมีไว้ฟังเสียง
 3. จมูกมีไว้ดมกลิ่น
 4. ปากมีไว้หายใจ
11. ข้อใดไม่ใช่สัตว์ 4 เท้าทั้งหมด
 1. ไก่ นก
 2. เต่า จระเข้
 3. สุนัข แมว
 4. ช้าง ม้า
12. ปลา หายใจด้วยอวัยวะใด
 1. ปอด
 2. เหงือก
 3. ผิวหนัง
 4. ถูคิ้วทุกข้อ
13. ข้อใดไม่ใช่ลักษณะของเต่า
 1. มีกระดูกแข็งหุ้มลำตัว
 2. กินพืชเป็นอาหาร
 3. ออกลูกเป็นตัว
 4. เป็นสัตว์เลือดเย็น

14. ข้อใดเป็นสัตว์ที่มีเปลือกแข็งหุ้มตัว
1. นก
 2. ผีเสื้อ
 3. แมลงทับ
 4. ผึ้ง
15. ทำไมเวลาปลาตายจึงหงายท้อง
1. เพราะปลาหมดแรงว่ายน้ำ
 2. เพราะมีอากาศอยู่ในถุงลมของปลา
 3. เพราะครีบปลาหลุด
 4. เป็นไปไม่ได้เลย
16. ในกระบวนการสังเคราะห์ด้วยแสงของพืช จะคายแก๊สชนิดใดออกมา
1. ออกซิเจน
 2. คาร์บอน
 3. ไนโตรเจน
 4. ไฮโดรเจน
17. “เพื่อลดการคายน้ำจะเปลี่ยนใบให้เป็นหนาม” คำกล่าวนี้เป็นลักษณะเฉพาะของพืชใด
1. ตำลึง
 2. ทุเรียน
 3. กระบองเพชร
 4. กุหลาบ
18. ใบอ่อนของพืชจะเจริญต่อไปเป็นข้อใด
1. เมล็ด
 2. เนื้อผลไม้
 3. ลำต้น
 4. ใบ
19. ส่วนใดของพืชทำหน้าที่ยึดเกาะดินเพื่อไม่ให้ลำต้นล้ม
1. ราก
 2. ใบ
 3. กิ่ง
 4. ดอก
20. ข้อใดเป็นวิธีการบำรุงรักษาดิน
1. การใช้ปุ๋ยพืชสด
 2. การพรวนดินสม่ำเสมอ
 3. การปลูกพืชหมุนเวียน
 4. ปลูกต้องทุกข้อ

ตอนที่ 2 จงนำอักษรทางขวามือมาเติมลงใน หน้าข้อความทางซ้ายมือที่สัมพันธ์กัน

1. หู

ก. เป็นสัตว์ที่ช่วยผสมเกสรของดอกไม้

2. จมูก

ข. เป็นสัตว์ที่มีนิสัยดุร้าย

3. เต่า ไก่

ค. เป็นสัตว์ที่เป็นต้นเหตุของโรคซาร์

4. ปลาทอง งู

ง. เป็นสัตว์ที่ออกลูกเป็นไข่

5. ผึ้ง ผีเสื้อ

จ. เป็นอวัยวะสำหรับรับฟังเสียง

6. ปลาฉลาม ปลากระเบน

ฉ. เป็นสัตว์เลือดเย็น

7. ไก่ นก

ช. เป็นรากของพืชที่รับประทานได้

8. มันเทศ

ฅ. เป็นแก๊สที่พืชใช้ในกระบวนการ

สังเคราะห์ด้วยแสง

9. คาร์บอนไดออกไซด์

ฉ. เป็นแก๊สที่พืชใช้ในกระบวนการหายใจ

10. ออกซิเจน

เฉลย

แบบทดสอบวิทยาศาสตร์ ป.1

ภาคต้น ชุดที่ 2

ตอนที่ 1

- | | | | | |
|-------|-------|-------|-------|-------|
| 1. 4 | 2. 2 | 3. 1 | 4. 2 | 5. 3 |
| 6. 3 | 7. 1 | 8. 4 | 9. 4 | 10. 4 |
| 11. 1 | 12. 2 | 13. 3 | 14. 3 | 15. 2 |
| 16. 1 | 17. 3 | 18. 1 | 19. 1 | 20. 4 |

ตอนที่ 2

- | | | | | |
|------|------|------|------|-------|
| 1. จ | 2. ช | 3. ง | 4. ฉ | 5. ก |
| 6. ข | 7. ค | 8. ซ | 9. ฉ | 10. ฉ |

แบบทดสอบ

วิทยาศาสตร์ ป.1

ภาคปลาย ชุดที่ 2

.....

จงเลือกคำตอบที่ถูกต้องที่สุดเพียงคำตอบเดียว

- ข้อใดไม่ใช่วัตถุที่ทำจากไม้
 - โต๊ะ
 - เก้าอี้
 - ตู้
 - เสื่อผ้า
- วัสดุใดมีลักษณะยืดหยุ่น
 - ไม้
 - ยาง
 - โลหะ
 - ผ้า
- ข้อใดไม่ใช่สมบัติของโลหะ
 - เกิดขึ้นเองตามธรรมชาติ
 - มีความแข็งแรง
 - มีความทนทาน
 - หักงอไม่ได้
- ข้อใดไม่ใช่โลหะ
 - ทองแดง
 - ทองคำ
 - อะลูมิเนียม
 - ใยสังเคราะห์
- เสื่อ กระโปรง กางเกง ทำจากวัสดุในข้อใด
 - ฝ้าย
 - ไหม
 - ใยสังเคราะห์
 - ถูกต้องทุกข้อ

6. การออกแรงเพื่อให้วัตถุเคลื่อนที่ไปข้างหน้า คือข้อใด
1. แรงผลัก
 2. แรงดึง
 3. แรงลาก
 4. แรงยก
7. “อยู่บ้านท่านอย่างนี้ดูคายน่า บั้นบัวบั้นควายให้ลูกท่านเล่น” คำกล่าวนี้ใช้ดินชนิดใด
1. ดินทราย
 2. ดินร่วน
 3. ดินเหนียว
 4. ดินร่วนปนทราย
8. ข้อใดเป็นประโยชน์ของดินทราย
1. ใช้ในอุตสาหกรรมการผลิตแก้ว
 2. ใช้ในการก่อสร้าง
 3. ใช้ปลูกมันสำปะหลัง
 4. ปลูกต้องทุกข้อ
9. ข้อใดเป็นดาวที่มีแสงในตัวเอง
1. ดาวเสาร์
 2. ดาวฤกษ์
 3. ดาวศุกร์
 4. ดาวพุธ
10. อพอลโล เป็นยานอวกาศที่สหรัฐอเมริกาส่งไปยังดาวดวงใด
1. ดวงอาทิตย์
 2. ดวงจันทร์
 3. ดาวเนปจูน
 4. ดาวพลูโต

ตอนที่ 2 จงเติมข้อความลงในช่องว่างต่อไปนี้ให้ถูกต้อง

1. ในระบบสุริยะ ประกอบด้วย ดาวพุธ ดาว..... โลก ดาวอังคาร ดาว..... ดาว..... ดาวยูเรนัส ดาว..... และ ดาว.....
2.เหมาะสำหรับใช้ปลูกข้าว ส่วน.....เหมาะสำหรับใช้ปลูกมันสำปะหลัง และ.....ใช้ปลูกพืชผักและผลไม้ทั่วไป
3. พืชประกอบด้วย.....ใช้สำหรับสร้างอาหาร และ.....ใช้ยึดเกาะดิน เพื่อให้ลำต้นตั้งตรงอยู่ได้
4.เป็นดาวที่มีแสงสว่างในตัวเอง ส่วน.....เป็นดาวที่ไม่มีแสงสว่างในตัวเอง

5. ในชีวิตประจำวันเราออกแรงกระทำต่อวัตถุต่าง ๆ มากมาย เช่น ออกแรง.....
ตัวให้เคลื่อนที่ไปข้างหน้า ออกแรง.....ดินเมื่อต้องการปลูกต้นไม้
6. แรงธรรมชาติมีประโยชน์กับเรามากมาย เช่น ในการผลิตกระแสไฟฟ้า
อาศัย.....และ.....ไปหมุนกังหัน หรือช่วยในการวิดน้ำเข้า
มา
7. ในเวลากลางคืน ถ้าเรามองขึ้นไปบนท้องฟ้าจะพบ.....
8. ดวงอาทิตย์ขึ้นทางทิศ.....และตกทางทิศ.....
9. เมื่อดวงอาทิตย์ขึ้นตรงศีรษะเราจะเป็นเวลา.....
10. ถ้าเราออกแรงผลักโต๊ะ หนังสือ และเก้าอี้ เราออกแรงผลัก.....ใช้แรงมากที่สุด

เฉลย

แบบทดสอบวิทยาศาสตร์ ป.2

ภาคปลาย ชุดที่ 2

ตอนที่ 1

- | | | | | |
|------|------|------|------|-------|
| 1. 4 | 2. 4 | 3. 4 | 4. 4 | 5. 4 |
| 6. 1 | 7. 3 | 8. 4 | 9. 2 | 10. 2 |

ตอนที่ 2

1. ดาวศุกร์ ดาวพฤหัสบดี ดาวเสาร์ ดาวเนปจูน ดาวพลูโต
2. ดินเหนียว ดินทราย ดินร่วน
3. ไบรอก
4. ดาวฤกษ์ ดาวเคราะห์
5. ผลึก ขูด
6. แรงน้ำ แรงลม
7. ดวงจันทร์ ดวงดาว เมฆ
8. ทิศตะวันออก ทิศตะวันตก
9. เทียงตรง
10. ผลึกโต๊ะ

