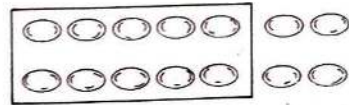
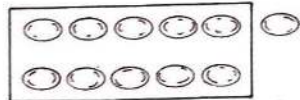
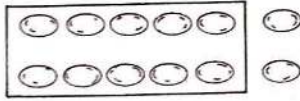




## โจทย์ปัญหาการบวก ลบระคน



วันเสาร์นิตดาเก็บไข่ไก่ได้ 12 ฟอง  
วันอาทิตย์เก็บได้ 11 ฟอง วันจันทร์  
เก็บได้ 14 ฟอง รวมสามวันนิตดา  
เก็บไข่ไก่ได้กี่ฟอง

๑. โจทย์ถามอะไร

รวมสามวันนิตดาเก็บไข่ไก่ได้กี่ฟอง

๒. โจทย์บอกอะไรบ้าง

- วันเสาร์เก็บไข่ไก่ได้ 12 ฟอง
- วันอาทิตย์เก็บได้ 11 ฟอง
- วันจันทร์เก็บได้ 14 ฟอง

๓. วันเสาร์เก็บไข่ไก่ได้ 12 ฟอง วันอาทิตย์เก็บได้ 11 ฟอง

รวมสองวันเก็บไข่ไก่ได้กี่ฟอง

$$12 + 11 = 23 \text{ ฟอง}$$

$$12 + 10 \text{ ได้ } 22$$

$$12 + 11 \text{ ได้ } 23$$

๔. ได้คำตอบที่โจทย์ต้องการหรือยัง เพราะอะไร

ยัง เพราะยังไม่ได้รวมไข่ไก่ที่เก็บได้ในวันจันทร์

๕. วันจันทร์ เก็บไข่ไก่ได้กี่ฟอง

14 ฟอง


๖. รวมสามวันเก็บไข่ไก่ได้กี่ฟอง

$$23 + 14 = 37 \text{ ฟอง}$$

$$23 + 10 \text{ ได้ } 33$$

$$23 + 14 \text{ ได้ } 37$$





วิภาดาตัดกระดาษสีไว้พับเป็นรูปสัตว์  
58 แผ่น เป็นกระดาษสีแดง 20 แผ่น  
กระดาษสีฟ้า 13 แผ่น นอกนั้นเป็น  
กระดาษสีขาว วิภาดามีกระดาษสีขาว  
กี่แผ่น

๑. โจทย์ถามอะไร

มีกระดาษสีขาวกี่แผ่น

๒. โจทย์บอกอะไรบ้าง

- มีกระดาษสี 3 สี รวมทั้งหมด 58 แผ่น
- เป็นสีแดง 20 แผ่น
- เป็นสีฟ้า 13 แผ่น
- ที่เหลือเป็นสีขาว

๓. จะหาว่ากระดาษสีขาวมีกี่แผ่น ได้อย่างไร

- นำจำนวนกระดาษสีทั้งหมดลบออกด้วยจำนวนกระดาษสีแดง  
และสีฟ้า

๔. กระดาษสีแดง 20 แผ่น กระดาษสีฟ้า 13 แผ่น รวมเป็นกระดาษ  
กี่แผ่น

$$20 + 13 = 33 \text{ แผ่น}$$

$$20 + 10 \text{ ได้ } 30$$

$$20 + 13 \text{ ได้ } 33$$

๕. “มีกระดาษสีทั้งหมด 58 แผ่น เป็นกระดาษสีแดงและสีฟ้ารวมกัน  
33 แผ่น ที่เหลือเป็นกระดาษสีขาว มีกระดาษสีขาวกี่แผ่น” จะหาได้  
อย่างไรว่ามีกระดาษสีขาวกี่แผ่น

นำ 33 ไปลบออกจาก 58

๖. กระดาษสีขาวมีกี่แผ่น

$$58 - 33 = 25 \text{ แผ่น}$$

$$53 - 33 \text{ ได้ } 20$$

$$58 - 33 \text{ ได้มากกว่า } 20$$

## ใบงานกลุ่มที่

ให้นักเรียนแสดงวิธีทำเพื่อหาคำตอบ

ฉันมีเงิน 55 บาท แม่ให้อีก 30 บาท ซื้อขนมไป 20 บาท ฉันเหลือเงินกี่บาท

ประโยคสัญลักษณ์ .....

วิธีทำ

.....

.....

.....

.....

.....

ตอบ .....

ตรวจคำตอบ .....

## ใบงานกลุ่มที่

ให้นักเรียนแสดงวิธีทำเพื่อหาคำตอบ

แม่มีเงิน 45 บาท ให้อูไป 25 บาท พ่อให้แม่อีก 30 บาท แม่มีเงินกี่บาท

ประโยคสัญลักษณ์ .....

วิธีทำ

.....

.....

.....

.....

.....

ตอบ .....

ตรวจคำตอบ .....

## ใบงานกลุ่มที่

ให้นักเรียนแสดงวิธีทำเพื่อหาคำตอบ

ฉันมีส้ม 35 ผล แบ่งให้เพื่อน 20 ผล ให้พี่ไป 10 ผล ฉันเหลือส้มกี่ผล

ประโยคสัญลักษณ์ .....

วิธีทำ

.....

.....

.....

.....

.....

ตอบ .....

ตรวจคำตอบ .....

## ใบงานกลุ่มที่

ให้นักเรียนแสดงวิธีทำเพื่อหาคำตอบ

ฉันมีขนม 25 ชิ้น แม่ให้อีก 10 ชิ้น ซื้อเพิ่มอีก 14 ชิ้น ฉันมีขนมรวมกี่ชิ้น

ประโยคสัญลักษณ์ .....

วิธีทำ

.....

.....

.....

.....

.....

ตอบ .....

ตรวจคำตอบ .....