

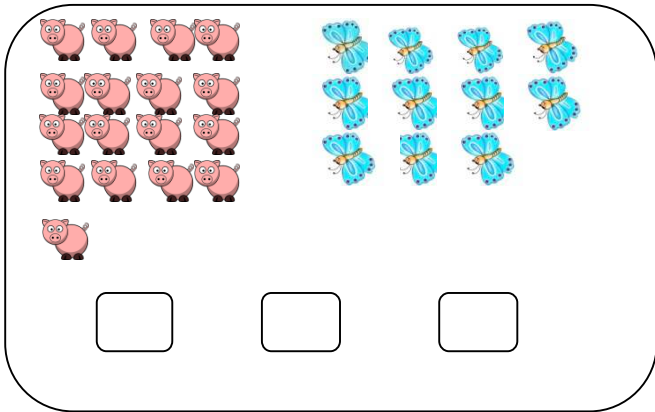
# ใบงาน

## เรื่อง การเปรียบเทียบจำนวนและการใช้เครื่องหมาย $>$ , $<$ , $=$ , $\neq$

ชื่อ ..... นามสกุล ..... ชั้น.....เลขที่.....

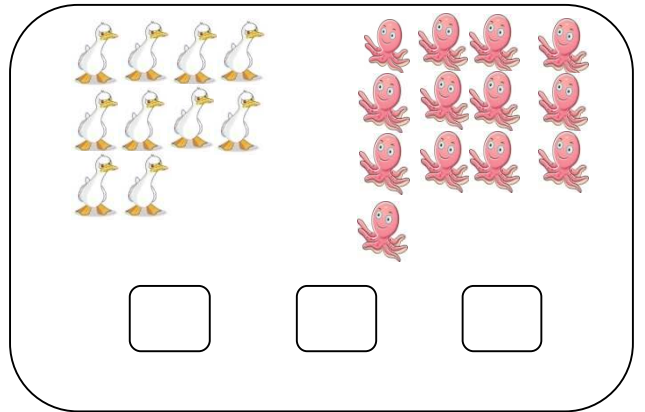
คำชี้แจง ให้นักเรียนเขียนตัวเลข แทนจำนวนที่กำหนดให้ แล้วใช้เครื่องหมายมากกว่า ( $>$ ) หรือน้อยกว่า ( $<$ ) หรือเท่ากับ ( $=$ ) แสดงการเปรียบเทียบจำนวน

๑.



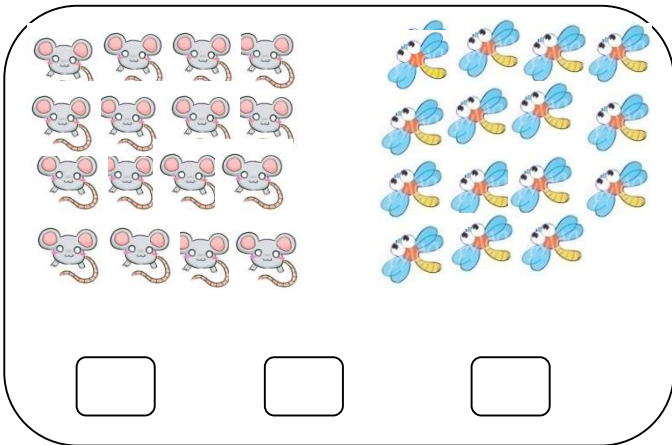
Group 1: 15 pigs and 14 butterflies.

๒.



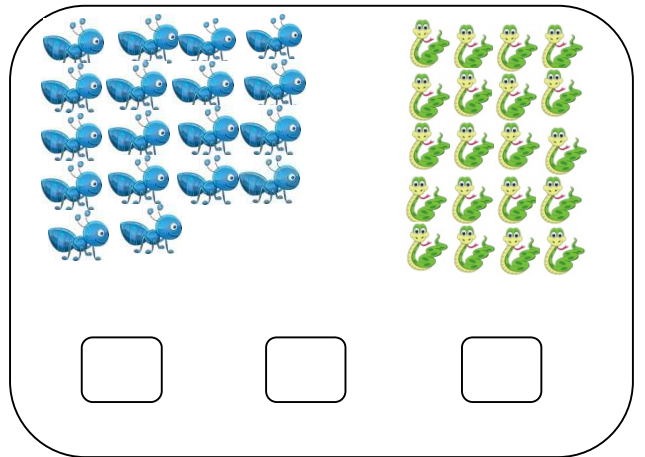
Group 2: 10 ducks and 15 octopuses.

๓.



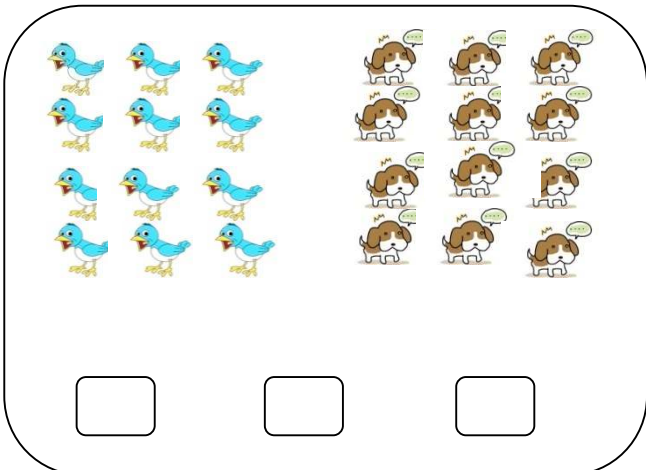
Group 3: 12 mice and 15 bees.

๔.



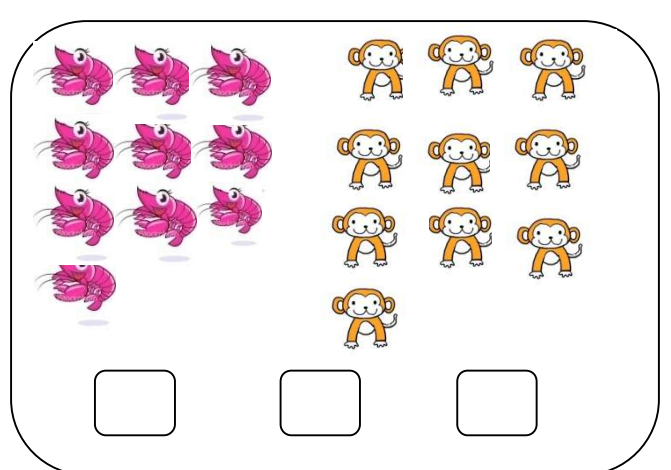
Group 4: 15 ants and 12 caterpillars.

๕.





Group 5: 12 birds and 10 dogs.

๖.





Group 6: 10 fish and 9 monkeys.



၈၂.

၈၃.

၈၄.

၈၅.

