






ใบงานที่ 1.2
เรื่องการชั่งน้ำหนักโดยใช้หน่วยชั่งที่ไม่ใช่หน่วยมาตรฐาน

ให้นักเรียนตอบคำถามต่อไปนี้ให้ถูกต้อง






ใช้เหรียญ 1 เหรียญ แทนหน่วยกลาง 1 หน่วย แล้วบันทึกผลลงในตาราง

สิ่งของที่กำหนด	ประมาณค่าน้ำหนัก	ชั่งจริงน้ำหนัก
1. ช้อนตักผงซักฟอก  เหรียญ เหรียญ
2. แปรงลบกระดาน  เหรียญ เหรียญ
3. แม็กซีเย็บกระดาษ  เหรียญ เหรียญ
4. แป้ง  เหรียญ เหรียญ
5. ขวดน้ำ  เหรียญ เหรียญ

สิ่งของที่กำหนด	ประมาณค่าน้ำหนัก	ซึ่งจริงน้ำหนัก
6. ช้อนส้อม  เกร็ด เกร็ด
7. ถ้วย  เกร็ด เกร็ด
8. ไม้บรรทัด  เกร็ด เกร็ด
9. กาว  เกร็ด เกร็ด
10. แก้วน้ำ  เกร็ด เกร็ด

แบบฝึกทักษะที่ 1.2
เรื่องการชั่งน้ำหนักโดยใช้หน่วยชั่งที่ไม่ใช่หน่วยมาตรฐาน

1. ให้นักเรียนตอบคำถามให้ถูกต้อง

สิ่งของที่กำหนด	น้ำหนัก (ลูกแก้ว)
1. ปากกา 	9 ลูก
2. กรรไกร 	10 ลูก
3. กาว 	12 ลูก
4. ดินสอ 	4 ลูก
5. ยางลบ 	3 ลูก

สิ่งของที่กำหนด	น้ำหนัก
6. แปรงสีฟัน 	5 ลูก
7. ช้อน 	8 ลูก
8. ปากกา 	7 ลูก
9. กล่องดินสอ 	15 ลูก
10. หวี 	6 ลูก

ให้นักเรียนตอบคำถามต่อไปนี้ให้ถูกต้อง

1. กล้องดินสอหนัก ลูก
2. กรรไกรรวมกับดินสอหนัก ลูก
3. สิ่งของชนิดใดเบาที่สุด
4. ดินสอกับยางลบหนักเบาว่า กรรไกร..... ลูก
5. สิ่งของชนิดใดหนักที่สุด
6. กาวหนักกว่ากรรไกร.....ลูก
7. ปากกาหนักน้อยกว่ากล้องดินสอ.....ลูก
8. ช้อนกับหวีหนักกว่ากรรไกร..... ลูก
9. สิ่งของที่หนักที่สุดหนักมากกว่าสิ่งของที่เบาที่สุด.....ลูก
10. หน่วยกลางที่ใช้ในการชั่งในครั้งนี้ คือ