
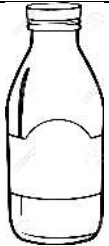





ใบงานที่ 1.4
เรื่องการตวงโดยใช้หน่วยกลางที่ไม่ใช่หน่วยมาตรฐาน

คำชี้แจง ให้นักเรียนคาดคะเน และตวงน้ำใส่ภาชนะที่กำหนดให้แล้วบันทึกข้อมูลลงในตาราง พร้อมทั้งตอบคำถามให้ถูกต้อง

สิ่งของ	การคาดคะเน	การตวงจริง
 ถ้วยช้อนช้อน
 ขวดช้อนช้อน
 เหยือกช้อนช้อน
 ชั้นช้อนช้อน
 แก้วช้อนช้อน

คำชี้แจง ให้นักเรียนตอบคำถามต่อไปนี้

1. จุมากที่สุด

2. จุน้อยที่สุด

3. ชั้นจุ.....ชั้น

4. แก้วจุ.....ชั้น

5. ถ้วยจุ.....ชั้น

6. ถ้วย จุมากกว่า ชั้น ชั้น

7. ชั้น จุน้อยกว่า เขี่ยอก.....ชั้น

8. แก้วและชั้นรวมกันจุ.....ชั้น

9. ขวดจุน้อยกว่าเขี่ยอก.....ชั้น

10.หน่วยกลางที่ใช้ในการตวงครั้งนี้ คือ

แบบฝึกทักษะที่ 1.4
เรื่องการตวงโดยใช้หน่วยกลางที่ไม่ใช่หน่วยมาตรฐาน

เรื่องการตวงโดยใช้หน่วยกลางที่ไม่ใช่หน่วยมาตรฐาน

คำชี้แจง ให้นักเรียนตอบคำถามให้ถูกต้อง

ข้อ	รูป	สิ่งของ	หน่วยที่ใช้ในการตวง (แก้ว)
1		ขวดโหล	
2		หม้อ	
3		กระติกน้ำ	
4		เหยือก	
5		กาต้มน้ำ	

6		ถังน้ำ	
7		กะละมัง	
8		ขวด	
9		ถ้วย	
10		แก้ว	

คำชี้แจง ให้นักเรียนตอบคำถามให้ถูกต้อง

1. ขวดโหลจุน้ำได้.....แก้ว
2. กระติกน้ำ จุน้ำได้น้อยกว่า ถังน้ำแก้ว
3. ภาชนะใดจุน้ำได้มากที่สุด.....
4. หม้อ จุน้ำได้มากกว่า เหยือกน้ำแก้ว
5. ขวดโหล จุน้ำได้น้อยกว่า กาน้ำ.....แก้ว
6. ภาชนะใดจุน้ำได้น้อยที่สุด
7. ถังน้ำ จุน้ำได้มากกว่า กะละมัง แก้ว
8. เหยือก และถ้วย จุน้ำได้แก้ว
9. ถ้วยจุน้ำได้มากกว่าภาชนะใดบ้าง.....
10. หน่วยกลางที่ใช้ในการตวง