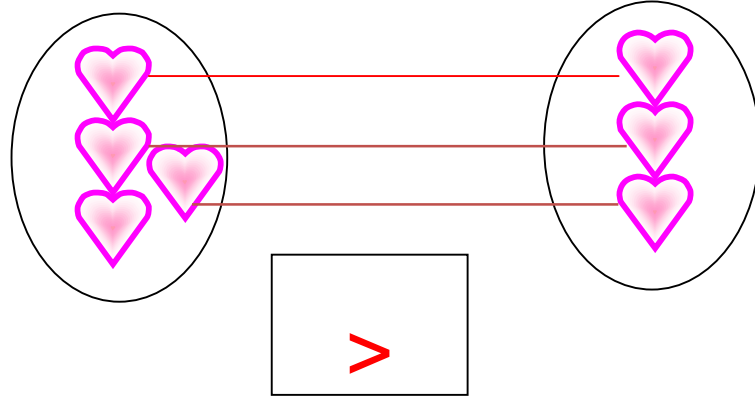


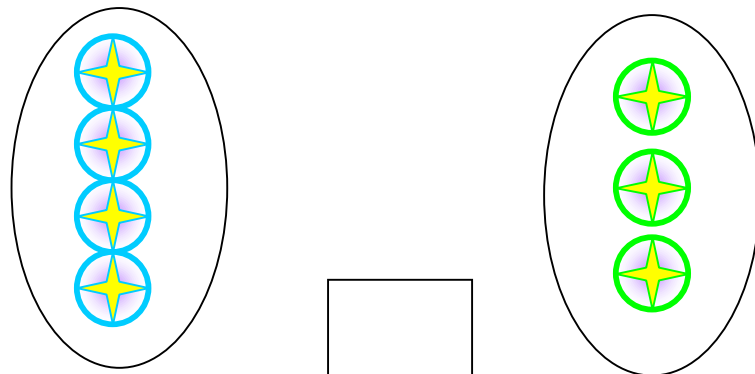


ชื่อ..... ชั้น..... เลขที่.....

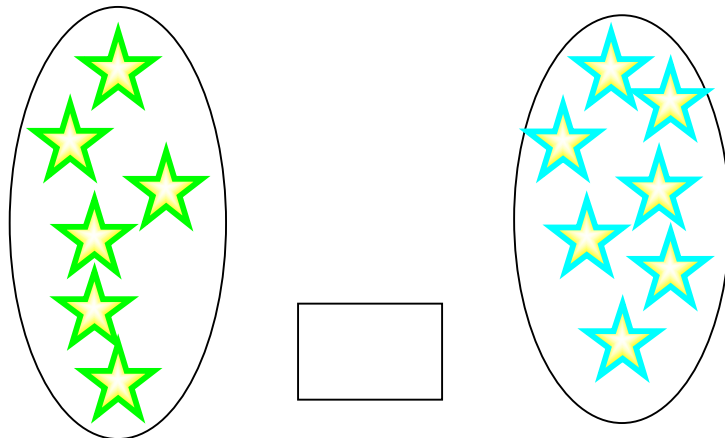
คำชี้แจง ให้จับคู่หนึ่งต่อหนึ่ง แล้วเติมเครื่องหมาย  $>$  ,  $<$  ให้ถูกต้อง  
ตัวอย่าง



1.



2.





ชื่อ..... ชั้น..... เลขที่.....

คำชี้แจง ให้เติมเครื่องหมาย = ,  $\neq$  ลงใน  ให้ถูกต้อง

ตัวอย่าง

8     =    8

1.    9        7

2.    6        6

3.    7        9

4.    6        8

5.    7        7

