

ข้อสอบพัฒนาทักษะการคิดวิเคราะห์

กลุ่มสาระการเรียนรู้คณิตศาสตร์ ชั้นประถมศึกษาปีที่ 1

หน่วยที่ 6 การวัดความยาวและระยะทาง

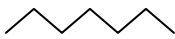
จำนวน 20 ข้อ

จงกา X ทับตัวอักษรตรงกับตัวเลือกที่ต้องการลงในกระดาษคำตอบ

1. ข้อใดสั้นที่สุด

ก. _____

ข. 

ค. 


2. ต้นมะพร้าวสูงกว่าต้นมะละกอ ต้นมะละกอ

สูงกว่าต้นมะเขือ ต้นไม้ใดสูงที่สุด

ก. ต้นมะเขือ ข. ต้นมะละกอ

ค. ต้นมะพร้าว

จากรูป ตอบคำถามข้อ 3 – 7



3. สัตว์ตัวใดสูงที่สุด

ก. ม้าลาย

ข. ช้าง

ค. หมี

4. สัตว์ตัวใดเตี้ยกว่าหมี

ก. ลิง

ข. ม้าลาย

ค. ช้าง

5. สัตว์ตัวใดสูงกว่าหมี

ก. ลิง กับ ม้าลาย

ข. ช้าง กับ ลิง

ค. ช้าง กับ ม้าลาย

6. สัตว์ตัวใดสูงเป็นลำดับที่ 2

ก. ช้าง ข. ม้าลาย

ค. หมี

7. ข้อใดไม่ถูกต้อง


ก. ช้างสูงกว่าสัตว์ทุกๆ ตัว

ข. ม้าลายสูงกว่าหมีแต่เตี้ยกว่าช้าง

ค. หมีสูงกว่าช้างแต่เตี้ยกว่าม้าลาย

จากรูป ตอบคำถามข้อ 8 – 13

หน่วยกลาง



8. ลุงทวีสูงกว่าป้าตองกี่หน่วยกลาง

ก. 3 หน่วยกลาง

ข. 6 หน่วยกลาง

ค. 8 หน่วยกลาง

9. ข้อใดไม่ถูกต้อง
- ก. ลูกทิวี่สูง 14 หน่วยกลาง
 - ข. ก้อยสูง 10 หน่วยกลาง
 - ค. หมอกสูง 5 หน่วยกลาง
10. ก้อยสูงกว่าหมอกกี่หน่วยกลาง
- ก. 6 หน่วยกลาง
 - ข. 4 หน่วยกลาง
 - ค. 2 หน่วยกลาง
11. คนที่สูงที่สุดสูงกว่าคนที่เตี้ยที่สุดกี่หน่วยกลาง
- ก. 8 หน่วยกลาง
 - ข. 10 หน่วยกลาง
 - ค. 12 หน่วยกลาง
12. ข้อใดถูกต้อง
- ก. ก้อยสูงกว่าป่าตอง ป่าตองสูงกว่าหมอก
 - ข. ลูกทิวี่สูงกว่าหมอก หมอกสูงกว่าป่าตอง
 - ค. ป่าตองสูงกว่าหมอก หมอกสูงกว่าก้อย
13. ข้อใดเรียงลำดับคนที่สูงที่สุดไปเตี้ยที่สุดได้ถูกต้อง
- ก. ลูกทิวี่ ป่าตอง ก้อย หมอก
 - ข. ลูกทิวี่ ก้อย ป่าตอง หมอก
 - ค. หมอก ป่าตอง ก้อย ลูกทิวี่
14. ไม้บรรทัดยาวกว่าฟูกัน ฟูกันยาวกว่าดินสอสิ่งของใดสั้นที่สุด
- ก. ไม้บรรทัด
 - ข. ฟูกัน
 - ค. ดินสอ

จากข้อมูล ตอบคำถามข้อ 15 – 16

ระยะทางจากบ้านถึงโรงเรียนยาว 35 ก้าว ระยะทางจากโรงเรียนถึงตลาดยาว 25 ก้าว ระยะทางจากโรงเรียนถึงโรงพยาบาลยาว 30 ก้าว

15. ระยะทางจากไหนถึงไหนไกลที่สุด
- ก. จากบ้านถึงโรงเรียน
 - ข. จากโรงเรียนถึงตลาด
 - ค. จากโรงเรียนถึงโรงพยาบาล
16. หากเดินทางจากโรงเรียนไปถึงตลาดแล้วเดินต่อไปอีก 10 ก้าว จะมีระยะทางเท่ากับจากไหนถึงไหน
- ก. จากโรงเรียนถึงโรงพยาบาล
 - ข. จากบ้านถึงโรงเรียน
 - ค. จากโรงเรียนถึงตลาด
17. สัตว์ตัวใดต่อไปนี้ มีความสูงมากกว่าตัวอื่นๆ
- ก. ม้า
 - ข. เป็ด
 - ค. ยีราฟ
18. สัตว์ตัวใดต่อไปนี้ มีความยาวมากกว่าตัวอื่นๆ
- ก. หนอน
 - ข. งู
 - ค. ไส้เดือน
19. “กมลสูงกว่าทินกร แต่เตี้ยกว่าสุชาติ” ใครสูงที่สุด
- ก. กมล
 - ข. ทินกร
 - ค. สุชาติ

20. “เชือกสั้นกว่าริบบิ้น แต่ยาวกว่าโบผูกผม” สิ่งใดสั้นที่สุด
- ก. เชือก
 - ข. ริบบิ้น
 - ค. โบผูกผม