

ข้อสอบหลักสูตรแกนกลางการศึกษาขั้นพื้นฐาน พุทธศักราช ๒๕๕๑

ข้อสอบกลุ่มสาระการเรียนรู้คณิตศาสตร์ (สำหรับนักเรียน)

ชั้นประถมศึกษาปีที่ 1

สอบประจำภาคการศึกษาที่ 2 ปีการศึกษา 2560

ชื่อ นามสกุล

เลขประจำตัวสอบ โรงเรียน

สอบวันที่ เดือน พ.ศ.

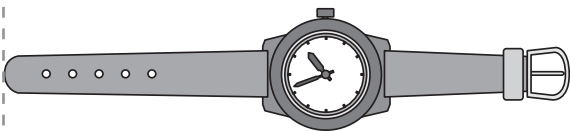
คะแนนเต็ม 30 คะแนน

ฝ่ายโครงการพัฒนาการวัดและประเมินผล สถาบันพัฒนาคุณภาพวิชาการ (พว.)

เวลาสอบ 60 นาที

ตอนที่ 1 ให้นักเรียนเขียนเครื่องหมาย × ทับตัวอักษรหน้าคำตอบที่ถูกต้อง
(คะแนนเต็ม 20 คะแนน)


1.



จากรูป ดินสอและนาฬิกาข้อมือยาวรวมกันก็ 

ก. 8 

ข. 9 

ค. 11 



8 854515 558981

2.



จากรูป ข้อใดเรียงลำดับน้ำหนักของสิ่งของจากมากไปน้อยได้ถูกต้อง

- ก. ลูกลูเทหนีล ลูกลูเปตอง ลูกลูบั้งปอง
ข. ลูกลูเปตอง ลูกลูเทหนีล ลูกลูบั้งปอง
ค. ลูกลูบั้งปอง ลูกลูเทหนีล ลูกลูเปตอง

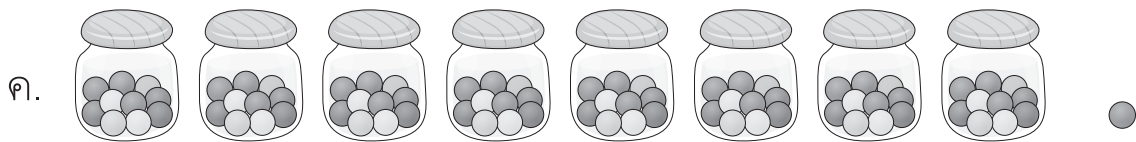
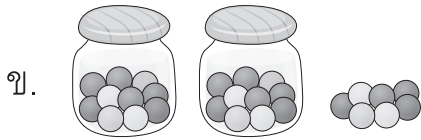
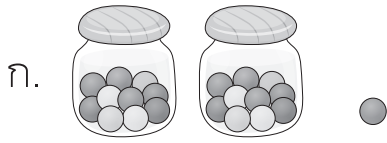
3.



จากรูป ข้อใดถูกต้อง

- ก. หม้อมีความจุมากที่สุด เพราะน้ำ 1 ขวด เทใส่หม้อจนหมดได้เต็มหม้อพอดี
ข. แก้วน้ำมีความจุมากที่สุด เพราะน้ำ 1 ขวด เทใส่แก้วจนเต็มแล้วยังเหลือน้ำในขวด
ค. กะละมังมีความจุมากที่สุด เพราะน้ำ 1 ขวด เทใส่กะละมังจนหมด และน้ำยังไม่เต็มกะละมัง

4. ๒๑ เป็นจำนวนแสดงปริมาณของสิ่งของในข้อใด




5. พลอยมีดินสอสีอยู่ยี่สิบสี่แท่ง เขียนตัวเลขไทยแสดงจำนวนดินสอสีที่พลอยมีได้ตามข้อใด

ก. ๒๔


ข. ๔๘

ค. ๘๔

6.



นัท



นิว

จากรูป นัทมีดินสอสีมากกว่านิวกี่แท่ง

ก. 1 แท่ง

ข. 2 แท่ง

ค. 3 แท่ง

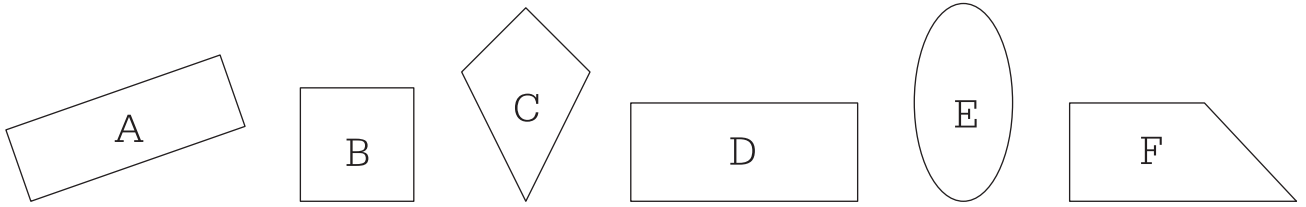
7. ข้อใดแสดงการเปรียบเทียบจำนวนได้ถูกต้อง
- ก. $51 < 61$
 ข. $51 > 61$
 ค. $51 = 61$
8. ข้อใดเรียงลำดับจำนวนได้ถูกต้อง
- ก. 12 21 14 41
 ข. 14 41 12 21
 ค. 41 21 14 12
9. ข้อใดเขียนตัวเลขแสดงจำนวนในรูปกระจายได้ถูกต้อง
- ก. $62 = 6 + 2$
 ข. $69 = 6 + 90$
 ค. $88 = 80 + 8$
10. แบบรูปในข้อใดใช้ความสัมพันธ์ของจำนวนโดยเพิ่มขึ้นทีละ 2 ในการหาคำตอบ
- ก. 45 44 43 40
 ข. 62 64 66 72
 ค. 73 74 75 78
11. หนูน้าออกกำลังกายตอนเช้าทุกวันเสาร์ ถ้าวันนี้เป็นวันศุกร์ หนูน้าออกกำลังกายเมื่อใด
- ก. พรุ่งนี้
 ข. เมื่อวานนี้
 ค. วันนี้

12. วิภาตื้นขึ้นมากใน วันจันทร์ และอาบน้ำ แต่งตัวเพื่อไปโรงเรียน หลังโรงเรียนเลิก คุณแม่ขับรถมารับกลับบ้าน เมื่อถึงบ้านวิภาช่วยคุณแม่เตรียมอาหาร และรับประทานอาหาร พร้อมกัน จากนั้นจึงทำการบ้านและอาบน้ำนอน

จากข้อความ ควรเติมคำในข้อใดลงใน ตามลำดับ จึงเหมาะสมมากที่สุด

- ก. เช้า สาย
ข. เช้า เย็น
ค. สาย เย็น
13. ฝ่ายตีมนมวันละ 1 กล่อง ใน 1 สัปดาห์ กับ 2 วัน ฝ่ายตีมนมได้กี่กล่อง
ก. 7 กล่อง
ข. 9 กล่อง
ค. 10 กล่อง
14. 12 เป็นผลลบของจำนวนในข้อใด
ก. $68 - 56 = \square$
ข. $76 - 54 = \square$
ค. $84 - 62 = \square$
15. ผลลัพธ์ในข้อใดมีค่ามากที่สุด
ก. $22 + 22 = \square$
ข. $22 - 11 = \square$
ค. $(22 - 22) + 11 = \square$
16. ต้น้อ่านหนังสือได้ 12 หน้า อ่านเพิ่มอีก 11 หน้า
ถ้าหนังสือมีทั้งหมด 56 หน้า เหลือหนังสือที่ยังไม่ได้อ่านอีกกี่หน้า
ก. 22 หน้า
ข. 33 หน้า
ค. 43 หน้า

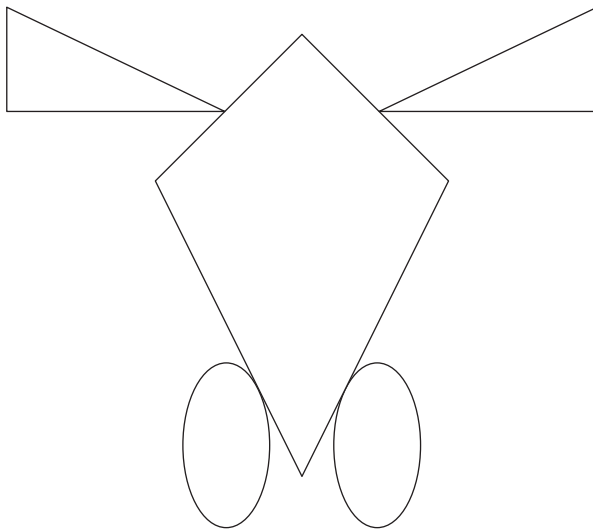
17.



จากรูป รูปเรขาคณิตสองมิติในข้อใดต่างจากพวก

- ก. A
- ข. C
- ค. E

18.



จากรูป ประกอบด้วยรูปเรขาคณิตชนิดใดบ้าง

- ก. รูปสามเหลี่ยม รูปวงกลม
- ข. รูปสามเหลี่ยม รูปสี่เหลี่ยม รูปวงกลม
- ค. รูปสามเหลี่ยม รูปสี่เหลี่ยม รูปวงรี



จากแบบรูป รูปที่อยู่ในลำดับถัดไปอีก 2 รูป คือรูปในข้อใดตามลำดับ



จากแบบรูป รูปที่หายไปคือรูปในข้อใดตามลำดับ



ตอนที่ 2 เติมคำตอบ (คะแนนเต็ม 10 คะแนน)

21. บิวมีลูกแก้ว 14 ลูก พลอยให้อีก 10 ลูก แล้วบิวแบ่งให้หน้า 3 ลูก บิวเหลือลูกแก้วกี่ลูก (5 คะแนน)

ประโยคสัญลักษณ์ _____

ตอบ _____

22. ออยมีหนังสือนิทาน หนังสือการ์ตูน และหนังสือเรียนทั้งหมด 46 เล่ม เป็นหนังสือนิทาน 21 เล่ม และหนังสือการ์ตูน 5 เล่ม ออยมีหนังสือเรียนกี่เล่ม (5 คะแนน)

ประโยคสัญลักษณ์ _____

ตอบ _____